

Função Derivada até à exponencial

Eduardo Cunha
Raul Aparício Gonçalves

RESUMO E OBJETIVOS

Os alunos irão utilizar a tecnologia TI-Nspire para trabalhar a derivada de uma função a diferentes níveis, começando por fazer revisão de assuntos que terão sido tratados no 11º ano e depois o transporte de conhecimento adquirido para um trabalho análogo em torno de uma função tratada no 12º ano, a função exponencial, isto quando já é capaz de calcular a derivada de uma função deste tipo .

É convidado a responder a questões que podem ser efetivas após um trabalho com a aplicação para realizar conjeturas.

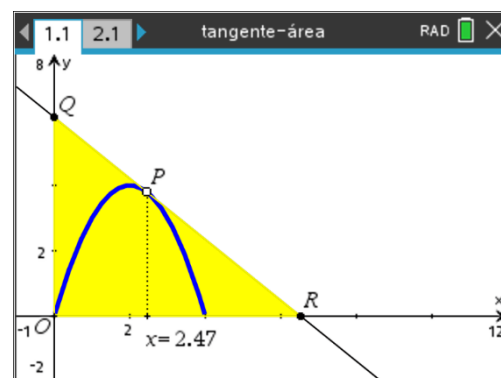
MATERIAIS E PREPARAÇÃO

- TI-Nspire CX ou CX II-T
- Ficheiro tangente-área.tns
- Folha de tarefas

TAREFAS E INVESTIGAÇÕES PARA OS ALUNOS

Começando por se considera a parte do 1º quadrante de uma parábola que é gráfico de uma função quadrática, o aluno vai deparar-se numa fase inicial com a necessidade de determinar uma expressão analítica dessa função, recordando trabalho realizado no 10º ano. A parábola contém os pontos de coordenadas (0,0), (4,0) e (2,4) e a equação que obtêm é $y = -x^2 + 4x$.

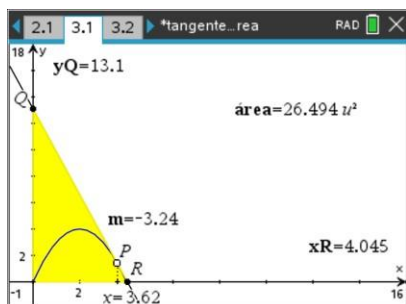
A primeira parte da **questão 1** pode ser respondida apenas com a identificação de que a reta tangente ao gráfico no vértice é paralela ao eixo das abcissas e como tal o domínio das funções f , g e h , funções que associam á abcissa de um ponto P sobre a parábola, a ordenada na origem da reta tangente ao gráfico nesse ponto, a abcissa na origem da mesma reta e a área do triângulo [ORQ], respetivamente. Deste modo, conclui-se que o domínio comum das funções é $]-2,4]$ e os contradomínios são $[4, +\infty[$ e $]4,16]$, respetivamente de g e de f . Para chegar ao último contradomínio é já necessário a obtenção da derivada em 4, mais uma oportunidade de revisão.



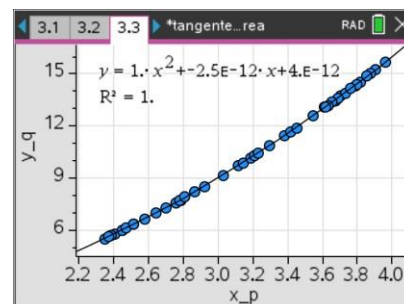
Função Derivada até à exponencial

Eduardo Cunha
Raul Aparício Gonçalves

Para concluir sobre a resposta à **questão 2**, o aluno poderá começar por manipular a aplicação fornecida e conjecturar sobre a resposta, a qual pode concretizar em definitivo com a prova. É vantajoso que esta manipulação não fique apenas pela observação dos valores mas por um estudo de um número mais alargado de observações, utilizando a captura automática de dados em listas e regressão numa página de dados e estatística, depois de fazer uma representação da nuvem de pontos.



A	x_p	B	x_r	C	y_q	D	declive	E	area
=	captu	=	captu	=	captu	=	captu	=	captu
1	2.78...	4.94...	7.74...	-1.566...	19.1539...				
2	2.51...	6.14...	6.32...	-1.029...	19.4247...				
3	2.45...	6.66...	6.00...	-0.901...	20.0078...				
4	2.40...	7.09...	5.80...	-0.818...	20.5818...				
5	2.38...	7.36...	5.69...	-0.773...	20.9725...				
A1	=2.7834077424107								



Embora pareça surpreendente, a ordenada na origem da reta tangente à parábola num ponto P é o quadrado da abcissa de P. Tal pode ser confirmado com alguns cálculos.

Sendo a a abcissa de P, o declive da reta tangente em P é dado por $-2a + 4$ e a respetiva reta tangente pode ser equacionada em função da ordenada na origem b por $y = (-2a + 4)x + b$.

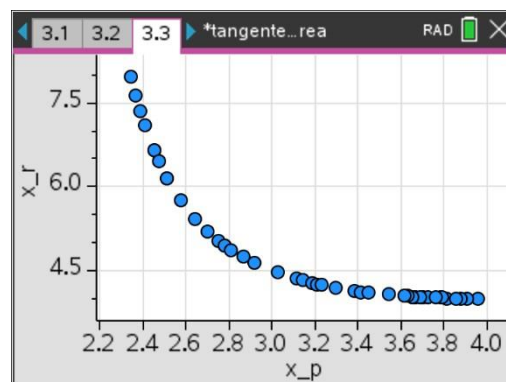
Dado que o ponto de coordenadas $(a, -a^2 + 4a)$ pertence à reta, substituído obtêm-se $b = a^2$.

É tratada aqui a função derivada e tal pode ser motivação para mais um momento de revisão, incluindo da relação entre o sinal da derivada e a monotonia da função.

Para responder à **questão 3**, uma análise idêntica á anterior, através da aplicação revela uma regularidade na relação entre as variáveis livre e dependente, mas de difícil deteção sem um trabalho analítico.

Utilizando a equação da reta tangente em função da abcissa a de P, tem-se que $0 = (-2a + 4)x + a^2$, donde se pode concluir que uma expressão analítica da função g pode ser dada por:

$$g(x) = \frac{x^2}{2x - 4}$$



Função Derivada até à exponencial

Eduardo Cunha
Raul Aparício Gonçalves

Na **questão 4** chega-se à expressão da função h utilizando expressões obtidas nas questões anteriores, donde:

$$h(x) = \frac{x^2 \times \frac{x^2}{2x-4}}{2} = \frac{x^4}{4x-8}$$

Derivando, vem que

$$h'(x) = \frac{x^3(3x-8)}{(2x-4)^2}$$

Agora, um trabalho de revisão sobre o estudo de extremos de uma função está a iniciar-se. Após elaboração do quadro de variação de sinal conclui-se cabalmente que a abcissa de P para a qual o triângulo tem área mínima é $\frac{8}{3}$. A equação pretendida é, portanto,

$$y = -\frac{4}{3}x + \frac{64}{9}$$

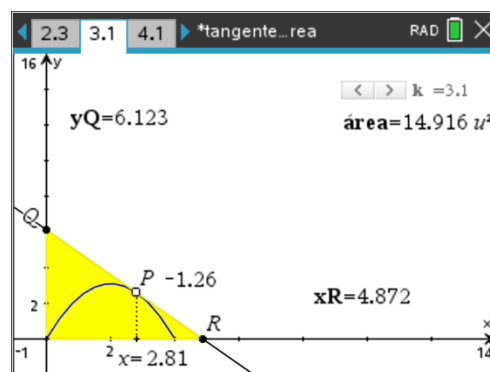
Não fazendo parte da questão, pode, no entanto, questionar-se sobre as dimensões do triângulo retângulo, concluindo-se que:

$$\overline{OQ} = \frac{64}{9}; \overline{OR} = \frac{16}{3} \text{ e } \overline{QR} = \frac{80}{9}$$

Na verdade, um triângulo semelhante a um de dimensões 3, 4 e 5.

Quando se pretende ir ainda mais longe, considerando um valor de k ($k > 0$) para a ordenada do vértice (antes tínhamos considerado $k = 4$), conclui-se que a equação da parábola é agora:

$$y = -\frac{k}{4}x^2 + kx$$



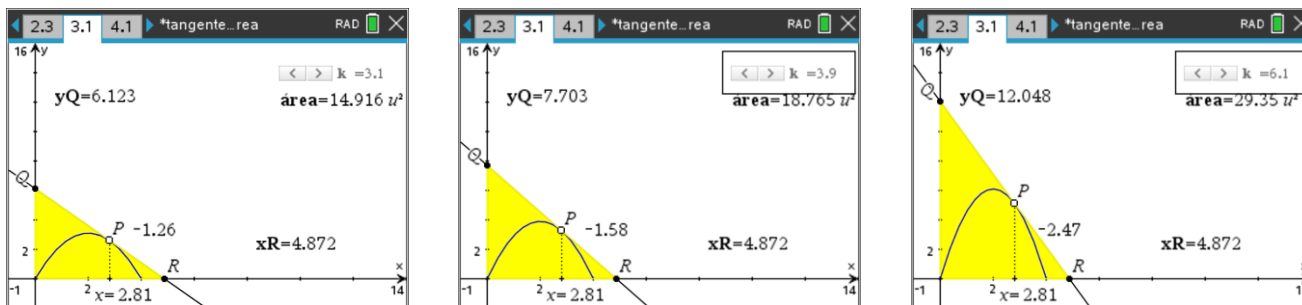
Realizando trabalho análogo ao anterior, com um pouco mais de exigência ao nível do trabalho algébrico, pode concluir-se que:

- $D_f = D_g = D_h =]2,4[$ (não altera) , $D'_g = [4, +\infty[$ (não altera) e $D'_f =]k, 4k[$.
- A ordenada de Q resulta da multiplicação do quadrado da abcissa de p por $\frac{k}{4}$, o simétrico do coeficiente quadrático da equação da parábola.

Função Derivada até à exponencial

Eduardo Cunha
Raul Aparício Gonçalves

3. Conclui-se que a abcissa de R não depende do valor de k, o que se pode conjecturar numa primeira análise com a aplicação fornecida.



4. Verifica-se que a abcissa de P para a qual a área do triângulo [ORQ] é mínima não depende do valor de k. A equação da reta é, assim:

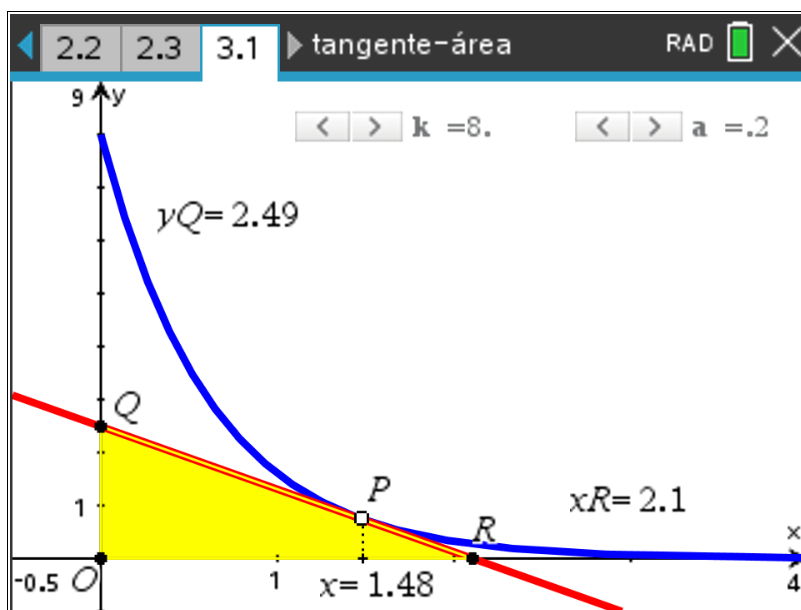
$$y = -\frac{k}{3}x + \frac{16k}{9}.$$

A última tarefa mobiliza o trabalho realizado nas anteriores para a função exponencial que permita um triângulo do tipo dos que têm sido considerados.

Considere-se então a curva definida por:

$$y = \left(\frac{1}{2}\right)^x,$$

E outra página da aplicação fornecida.



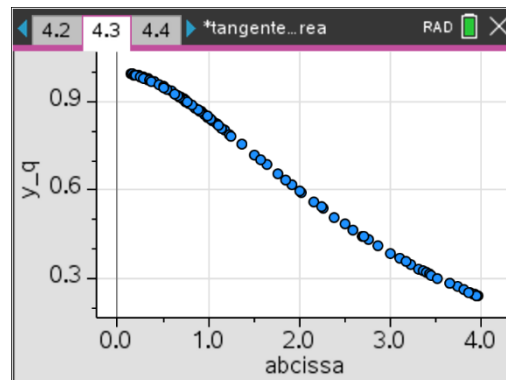
Função Derivada até à exponencial

Eduardo Cunha
Raul Aparício Gonçalves

Neste caso, respondendo à **questão 1**, $D_f = D_g = D_h = [0, +\infty[$, $D'_g = \left[\frac{1}{\ln 2}, +\infty[\right.$ e $D'_f =]0,1]$.

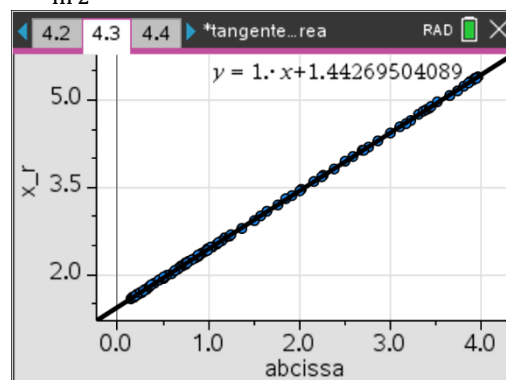
Note-se que foi necessário determinar $y' = -\ln 2 \times \left(\frac{1}{2}\right)^x$ e percebe-se assim que o declive da reta tangente no ponto de abcissa 0 é $-\ln 2$ e conseqüentemente o valor mínimo de D'_g .

Dado que, para responder à **questão 2**, uma análise experimental da aplicação não proporciona uma boa conclusão sobre a relação, embora se observe que há alguma relação, um trabalho analítico é fundamental para que se conclua que $f(x) = (1 + \ln 2 \times x) \times \left(\frac{1}{2}\right)^x$.

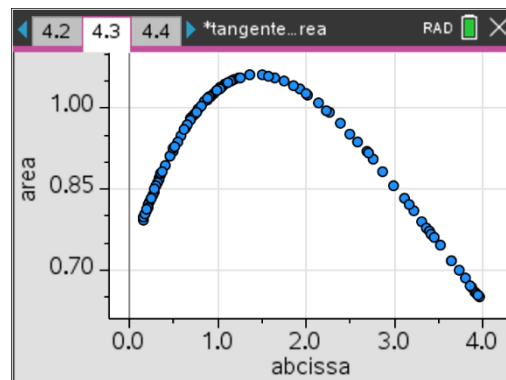


Já quanto à **questão 3**, percebe-se perfeitamente uma relação linear de coeficiente 1, não sendo, no entanto, evidente o valor exato da ordenada na origem, que é $\frac{1}{\ln 2}$. Este valor obtém-se com um breve procedimento analítico.

Esta análise vem confirmar a observação surpreendente de que é constante a diferença entre a abcissa do ponto de interseção da reta com o eixo das abcissas e a abcissa do ponto sobre o gráfico onde é traçada a reta tangente, o que se observa com a manipulação da aplicação tangente-área.tns.



A **questão 4** tem uma formulação que poderá admitir a existência de um triângulo de área mínima, mas apelando ao sentido crítico do aluno, observa-se que à medida que o ponto P se desloca no sentido da abcissa crescente, esta medida da área parece diminuir sucessivamente, mas não desde o início do domínio. Apelando uma vez mais ao sentido crítico do aluno, a manipulação da aplicação fornecida leva a vislumbrar um triângulo de área máxima e, assim, faz sentido a procura desse triângulo. Note-se que:



$$h(x) = \frac{1}{\ln 2} \times \frac{(1 + x \times \ln 2)^2}{2^{x+1}}$$

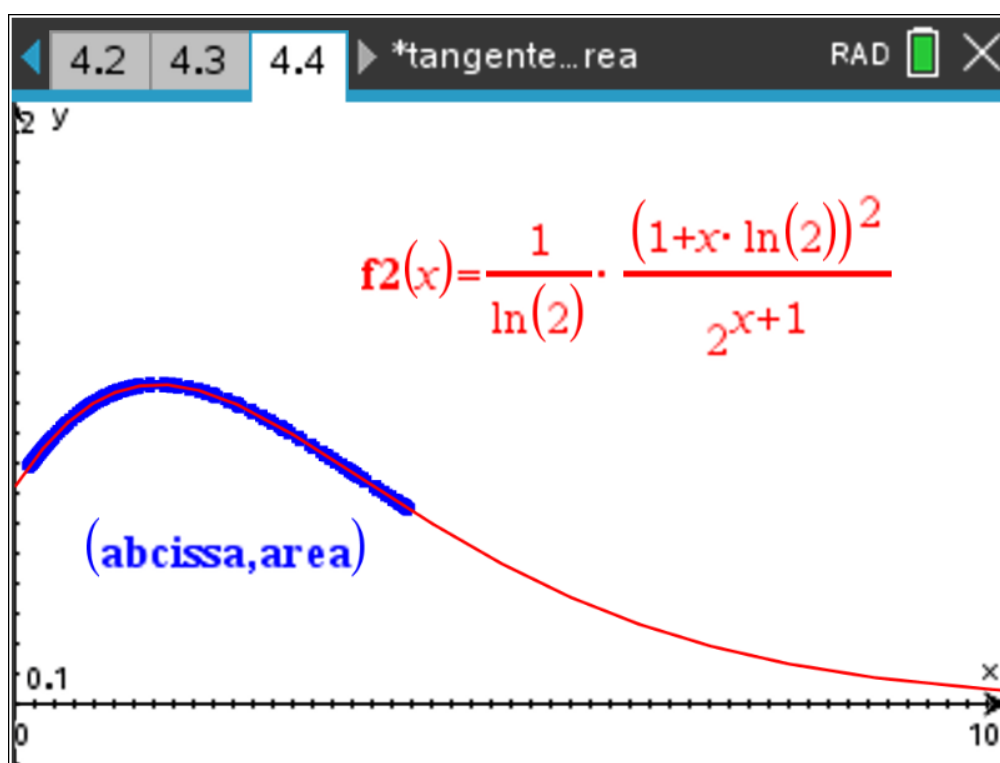
Função Derivada até à exponencial

Eduardo Cunha
Raul Aparício Gonçalves

Decorre daqui que:

$$h'(x) = \frac{1 - (\ln 2)^2 x^2}{2^{x+1}},$$

E conseqüentemente pode concluir-se que só a partir de $\frac{1}{\ln 2}$ a área começa a decrescer e que o triângulo para esta abcissa de P é o da área máxima, a qual se pode concluir que é $\frac{2}{e \times \ln 2}$, depois de fazer uso das propriedades das operações com logaritmos.



O trabalho com a curva $y = \left(\frac{1}{2}\right)^x$ não é fácil, pelo que o tratamento num contexto de alteração de parâmetros em $y = ka^x, k > 0, 0 < a < 1$ deve ser bem ponderado.

Ficam aqui as expressões das funções consideradas e com isso a possibilidade da constatação do que os parâmetros influenciam ou não.

$$f(x) = ka^x(1 - x \times \ln a)$$

$$g(x) = x - \frac{1}{\ln a}$$

$$h(x) = \frac{a^x(x \times \ln a - 1)^2}{2 \times \ln a}$$