

ÉQUATIONS DIFFÉRENTIELLES DU SECOND ORDRE (EXOS)

TI-Nspire™ CAS

1. Objectifs

- Résoudre à la main et à l'aide de la calculatrice les équations différentielles linéaires du second ordre.

2. Exercices

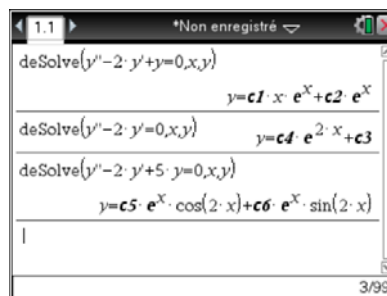
Exercice 1 : On considère l'équation différentielle (E) : $y'' - 2y' + (a - 1)y = 0$, où a désigne un nombre réel quelconque.

- Déterminer à la main, en détaillant les calculs et la méthode utilisée, la solution générale de cette équation dans chacun des trois cas suivants :

Cas n° 1	Cas n°2	Cas n°3
$a = 2$	$a = 1$	$a = 6$

Valeur de a	$a = 2$	$a = 1$	$a = 6$
Equation caractéristique	$(r - 1)^2 = 0$	$r^2 - 2r = 0$	$r^2 - 2r + 5 = 0$
Solutions	$r_1 = r_2 = 1$	$r_1 = 0 ; r_2 = 2$	$r_1 = 1 + 2i ; r_2 = 1 - 2i$
Solution générale de (E)	$(c_1x + c_2)e^x$	$c_1 + c_2e^{2x}$	$(c_1 \cos(2x) + c_2 \sin(2x)) e^x$

- Vérifier chacune des solutions trouvées en utilisant TI-Nspire.



Remarque : les constantes sont numérotées dans l'ordre de leur création dans une même activité.

- Étude du cas général, a désigne un nombre réel quelconque.

Écrire l'équation caractéristique de (E). Résoudre suivant les valeurs de a cette équation caractéristique.

L'équation caractéristique de (E) est : $r^2 - 2r + (a - 1) = 0$

On trouve $\Delta = -4a + 8 = -4(a - 2)$.

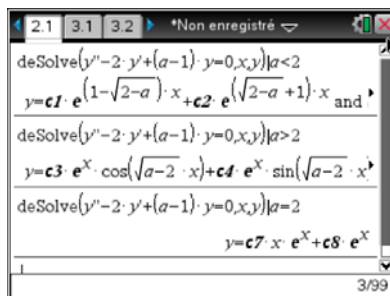
Condition sur a	$a < 2$	$a = 2$	$a > 2$
Signe de Δ	$\Delta > 0$	$\Delta = 0$	$\Delta < 0$
Solutions	2 solutions réelles distinctes $r_1 = 1 + \sqrt{2 - a}$ $r_2 = 1 - \sqrt{2 - a}$	Une solution double $r_1 = r_2 = 1$	2 solutions complexes conjuguées. $r_1 = 1 + i\sqrt{a - 2}$ $r_2 = 1 - i\sqrt{a - 2}$



4. En déduire dans chaque cas en fonction de a la solution générale de (E).

$a < 2$	$y = c1 \cdot e^{(1+\sqrt{2-a})x} + c2 \cdot e^{(1-\sqrt{2-a})x}$
$a = 2$	$y = (c1x+c2) \cdot e^x$
$a > 2$	$y = e^x \cdot (c1 \cos(\sqrt{a-2} \cdot x) + c2 \sin(\sqrt{a-2} \cdot x))$

Remarque : TI-Nspire affiche la solution générale lorsque l'on ajoute la condition sur a .



Exercice 2 : On considère l'équation différentielle (E₂) : $y'' + y = \sin(x)$.

Question 1 : Déterminer, à la main, la solution générale de l'équation sans second membre : $y'' + y = 0$.

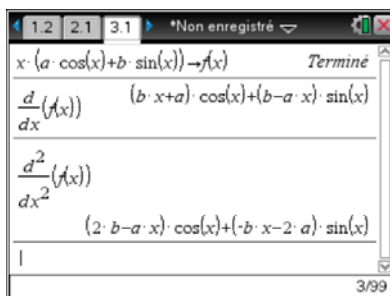
L'équation caractéristique est : $r^2 + 1 = 0$, elle a pour solutions les nombres complexes i et $-i$.

La solution générale de l'équation différentielle $y'' + y = 0$ est : $y = c_1 \cos(x) + c_2 \sin(x)$ où c_1 et c_2 désignent des constantes réelles.

Question 2 : On se propose de rechercher une solution particulière f de (E₂) sous la forme : $f(x) = x \cdot (a \cdot \cos(x) + b \cdot \sin(x))$ où a et b désignent des nombres réels.

Calculer en fonction de x , $f'(x)$ et $f''(x)$. (On pourra utiliser TI-Nspire)

Réponse :



Question 3 : En déduire que si f est solution de (E₂), alors on est conduit à l'égalité : $2b \cdot \cos(x) + (-2a) \cdot \sin(x) = \sin(x)$, égalité vraie pour tout x réel.

L'égalité est immédiate.

Question 4 : En déduire les valeurs de a et b puis la solution générale de l'équation (E₂).

On est conduit aux égalités : $2b = 0$ et $-2a = 1$ d'où $a = -\frac{1}{2}$ et $b = 0$.

La solution particulière f cherchée est donc : $f(x) = -\frac{1}{2}x \cdot \cos(x)$ et la solution générale de l'équation différentielle (E₂) peut s'écrire : $y = c_1 \cos(x) + c_2 \sin(x) - \frac{1}{2}x \cdot \cos(x)$ où c_1 et c_2 désignent des constantes réelles.

Exercice 3 : On considère l'équation différentielle (E₃) : $y'' - 2y' + y = e^x + \cos(x)$.

Question 1 : Déterminer, à la main, la solution générale de l'équation : $y'' - 2y' + y = 0$.

L'équation caractéristique est : $r^2 - 2r + 1 = 0$ qui peut s'écrire : $(r - 1)^2 = 0$.

Elle admet une solution double réelle $r = 1$.

La solution générale de l'équation : $y'' - 2y' + y = 0$ est : $y = (c_1x + c_2)e^x$, où c_1 et c_2 désignent des constantes réelles.

On considère maintenant les équations différentielles (F₁) : $y'' - 2y' + y = e^x$ et (F₂) : $y'' - 2y' + y = \cos(x)$.

Question 2 : Déterminer, à la main, une solution particulière f de l'équation (F₁) en posant $f(x) = k \cdot x^2 \cdot e^x$.

On a $f'(x) = k(2x + x^2)e^x$ et $f''(x) = k(2 + 4x + x^2)e^x$.

En remplaçant ces résultats dans l'équation (F₁) on obtient : $2k = 1$ soit $k = \frac{1}{2}$.

Une solution particulière de (F₁) est $f(x) = \frac{1}{2}x^2 \cdot e^x$

Question 3 : Déterminer, à la main, une solution particulière g de l'équation (F₂) sous la forme : $g(x) = a \cdot \cos(x) + b \cdot \sin(x)$.

On a $g'(x) = -a \sin(x) + b \cos(x)$ et $g''(x) = -a \cos(x) - b \sin(x)$.

En remplaçant ces résultats dans l'équation (F₂) on obtient : $2a \sin(x) - 2b \cos(x) = \cos(x)$ qui conduit à

$2a = 0$ et $-2b = 1$ d'où $a = 0$ et $b = -\frac{1}{2}$.

Une solution particulière de (F₂) est $g(x) = -\frac{1}{2} \sin(x)$.

Question 4 : Montrer que la fonction $f + g$ est solution particulière de l'équation (E).

En déduire la solution générale de (E).

En remplaçant y par $f(x) + g(x)$ dans le premier membre de l'équation (E) on a :

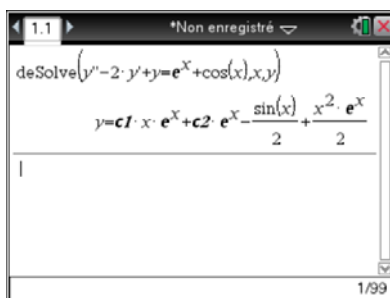
$(f''(x) + g''(x)) - 2(f'(x) + g'(x)) + (f(x) + g(x))$,

ou encore : $(f''(x) - 2f'(x) + f(x)) + (g''(x) - 2g'(x) + g(x))$.

Comme f et g sont respectivement solutions des équations (F₁) et (F₂), on a $(f''(x) - 2f'(x) + f(x)) = e^x$ et $(g''(x) - 2g'(x) + g(x)) = \cos(x)$. On retrouve bien le second membre de l'équation (E) ce qui permet d'affirmer que la fonction $f + g$ est solution particulière de l'équation (E).

La solution générale de (E) est : $y = (c_1x + c_2)e^x + \frac{1}{2}x^2 \cdot e^x - \frac{1}{2} \sin(x)$, où c_1 et c_2 désignent des constantes réelles.

Remarque : on peut vérifier le résultat précédent à l'aide de la calculatrice

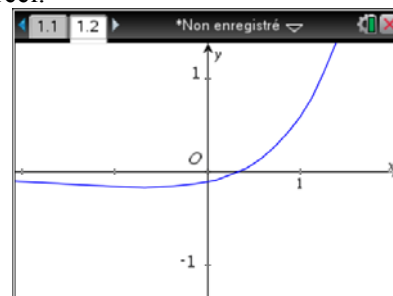


Exercice 4 :

Partie 1

On appelle C la courbe représentative d'une fonction f définie pour tout x réel.

Dans l'écran ci-contre figure une partie de la courbe C tracée dans un repère orthonormal.



On considère les fonctions suivantes définies pour tout x réel par :

Fonction1	Fonction 2	Fonction3
$(3x - 1).e^x$	$\left(\frac{1-3x}{4}\right).e^x$	$\left(\frac{x}{3} - \frac{1}{9}\right).e^x$

Question : Parmi les trois fonctions ci-dessus, une seule correspond à la fonction f et a pour représentation graphique la courbe C. Laquelle ? On justifiera son choix.

Le calcul de $f(0)$ donne respectivement : -1 , $\frac{1}{4}$ et $-\frac{1}{9}$, seule la dernière valeur est compatible avec la représentation graphique de f . On a donc $f(x) = \left(\frac{x}{3} - \frac{1}{9}\right).e^x$.

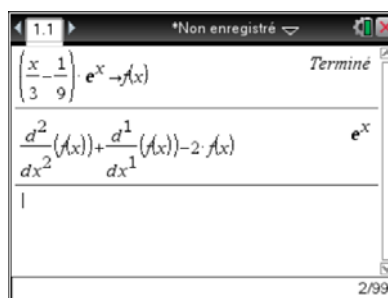

Partie 2

On considère l'équation différentielle (E) : $y'' + y' - 2y = e^x$.

Question 1 : Résoudre l'équation différentielle (E₀) : $y'' + y' - 2y = 0$

L'équation caractéristique est : $r^2 + r - 2 = 0$ qui admet deux solutions réelles $r_1 = 1$ et $r_2 = -2$.
La solution générale de (E₀) est alors : $y = c_1 e^x + c_2 e^{-2x}$, où c_1 et c_2 désignent des constantes réelles.

Question 2 : Vérifier que la fonction f associé à la courbe C de la partie 1 est solution particulière de (E).
(On pourra s'aider le la calculatrice)



Question 3 : Dédire de ce qui précède la solution générale de l'équation différentielle (E).

Il suffit d'ajouter à la solution générale de (E₀) la solution particulière f ce qui donne :

$y = c_1 e^x + c_2 e^{-2x} + \left(\frac{x}{3} - \frac{1}{9}\right).e^x$, où c_1 et c_2 désignent des constantes réelles, ce que confirme l'écran suivant de la calculatrice,

$$deSolve(y''+y'-2 \cdot y=e^x,x,y)$$

$$y=c1 \cdot e^{-2 \cdot x}+c2 \cdot e^x+\left(\frac{x}{3}-\frac{1}{9}\right) \cdot e^x$$

Partie 3

On pose $F(x) = \frac{1}{2}(f''(x) + f'(x) - e^x)$ où f désigne la fonction trouvée en partie 1.

Question 1 : En utilisant le fait que f est solution de (E), justifier que F est une primitive de f .

Calculons $F'(x) = \frac{1}{2}(f'''(x) + f''(x) - e^x)$. On sait que f est solution de l'équation (E), on peut donc écrire : $f''(x) + f'(x) - 2f(x) = e^x$, on en tire l'égalité : $f''(x) + f'(x) = 2f(x) + e^x$.

On a alors $F'(x) = \frac{1}{2}(f''(x) + f'(x) - e^x) = \frac{1}{2}(2f(x) + e^x - e^x) = f(x)$, soit $F'(x) = f(x)$ qui prouve que F est une primitive de f .

Question 2 : Exprimer $F(x)$ en fonction de x .

On a $f(x) = \left(\frac{x}{3} - \frac{1}{9}\right) \cdot e^x$, donc $f'(x) = \left(\frac{1}{3} + \frac{x}{3}\right)e^x - \frac{1}{9}e^x$.

Or $F(x) = \frac{1}{2}(f'(x) + f(x) - e^x) = \frac{1}{2}\left(\frac{1}{3} + \frac{x}{3} - \frac{1}{9} + \frac{x}{3} - \frac{1}{9} - 1\right)e^x = \left(\frac{x}{3} - \frac{4}{9}\right)e^x$.

Question 3 : Etudier le signe de $f(x)$ pour x variant dans $\left[0; \frac{1}{3}\right]$.

Remarque : l'observation du graphique de f en partie 1 permet de conjecturer que $f(x)$ est négatif pour x variant dans $\left[0; \frac{1}{3}\right]$.

Le signe de $f(x)$ est celui de $\left(\frac{x}{3} - \frac{1}{9}\right) = \frac{1}{3}\left(x - \frac{1}{3}\right)$ car $e^x > 0$ pour tout x réel.

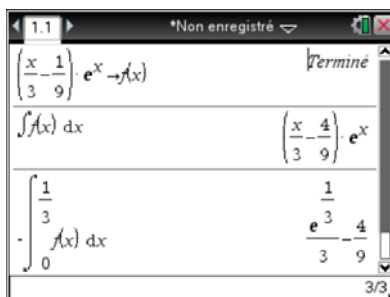
On a donc $f(x) \leq 0$ si x appartient à $\left[0; \frac{1}{3}\right]$.

Question 4 : Calculer en unités d'aire la valeur exacte de l'aire du domaine plan limité par la courbe C, l'axe des abscisses et les droites d'équations $x = 0$ et $x = \frac{1}{3}$.

L'aire cherchée est donnée par $A = -\int_0^{\frac{1}{3}} f(x) dx = -[F(x)]_0^{\frac{1}{3}} = -\left[\left(\frac{x}{3} - \frac{4}{9}\right)e^x\right]_0^{\frac{1}{3}} = \frac{1}{3}e^{\frac{1}{3}} - \frac{4}{9}$ car $f(x) \leq 0$ si x

appartient à $\left[0; \frac{1}{3}\right]$.

Remarque : il est possible de contrôler les réponses aux questions 2 et 4 à l'aide de la calculatrice comme le montre l'écran ci-dessous.



Exercice 5 :

On considère l'équation différentielle (E) : $y'' - y = 2xe^x$.

On se propose de déterminer la solution y de (E) qui vérifie les conditions initiales : $y(0) = 1$ et $y'(0) = 1$.

Question 1 : Justifier en détaillant les calculs faits à la main, le résultat donné par la calculatrice dans l'écran ci-dessous.

$$\text{deSolve}(y''-y=0,x,y) \quad y=c_1 \cdot e^{-x} + c_2 \cdot e^x$$

On résout tout d'abord l'équation caractéristique : $r^2 - 1 = 0$ qui a pour solutions les nombres réels -1 et 1 . La solution générale de l'équation sans second membre $y'' - y = 0$ est donc $y = c_1 e^{-x} + c_2 e^x$ où c_1 et c_2 désignent des constantes réelles.

Question 2 : On se propose de déterminer à la main une solution particulière de (E).

$$\text{deSolve}(y''-y=2 \cdot x \cdot e^x,x,y) \\ y=c_1 \cdot e^{-x} + c_2 \cdot e^x + \left(\frac{x^2}{2} - \frac{x}{2} + \frac{1}{4} \right) \cdot e^x$$

L'observation de l'écran ci-dessus nous conduit à chercher une solution particulière de (E) sous la forme $f(x) = (ax^2 + bx + c) \cdot e^x$ où a , b et c sont des nombres réels.

Calculer $f'(x)$ et $f''(x)$.

On a $f(x) = (ax^2 + bx + c) e^x$

$$f'(x) = (2ax + b) e^x + (ax^2 + bx + c) e^x = (ax^2 + (2a + b)x + b + c) e^x$$

$$f''(x) = (2ax + 2a + b + ax^2 + (2a + b)x + b + c) e^x = (ax^2 + (4a + b)x + 2a + 2b + c) e^x$$

Remarque : les résultats précédents peuvent être contrôlés à l'aide de la calculatrice, voir l'écran ci-dessous

En remplaçant y et y'' dans l'équation (E) respectivement par les expressions de $f(x)$ et $f''(x)$, montrer que l'on aboutit au système d'équations suivant :

$$\begin{cases} 4a = 2 \\ 2a + 2b = 0 \\ c \text{ quelconque} \end{cases}$$

En utilisant les résultats précédents, on peut écrire $f''(x) - f(x) = (4ax + 2a + 2b) e^x$.

En remplaçant dans l'équation différentielle (E) : $y'' - y = 2xe^x$ on aboutit à l'égalité vraie pour tout x réel : $(4ax + 2a + 2b) e^x = 2xe^x$, ce qui conduit par identification à $4a = 2$ et $2a + 2b = 0$.

On remarquera qu'aucune condition n'est imposée au réel c , on peut donc le choisir de manière quelconque.

Déduire de ce qui précède une solution particulière de (E) et enfin la solution générale de cette équation différentielle.

Du système précédent on tire $a = \frac{1}{2}$ et $b = -\frac{1}{2}$, c quelconque.

Toute fonction f qui s'écrit $f(x) = \left(\frac{1}{2}x^2 - \frac{1}{2}x + c\right)e^x$ est solution particulière de (E).

La solution particulière de (E) donnée par la calculatrice correspond à la valeur $c = \frac{1}{4}$.

La solution particulière de (E) est donc : $y = c_1e^{-x} + c_2e^x + \left(\frac{1}{2}x^2 - \frac{1}{2}x + \frac{1}{4}\right)e^x$ où c_1 et c_2 désignent des constantes réelles.

Question 3 : Recherche de la solution particulière qui vérifie les conditions initiales.

On se propose, comme dans les questions précédentes de justifier le résultat donné par la calculatrice dans l'écran ci-dessous :

deSolve($y'' - y = 2 \cdot x \cdot e^x$ and $y(0)=1$ and $y'(0)=1, x, y$)	$y = \left(\frac{x^2}{2} - \frac{x}{2} + \frac{5}{4}\right) \cdot e^x - \frac{e^{-x}}{4}$
---	---

En utilisant la solution générale de (E) trouvée en question 2 et les conditions initiales imposées : $y(0) = 1$ et $y'(0) = 1$, déterminer à la main la valeur des constantes c_1 et c_2 et enfin la solution particulière demandée.

Calculons tout d'abord $f'(x) = -c_1e^{-x} + c_2e^x + \left(x - \frac{1}{2} + \frac{1}{2}x^2 - \frac{1}{2}x + \frac{1}{4}\right)e^x$.

La condition $y(0) = 1$ conduit à l'équation $c_1 + c_2 + \frac{1}{4} = 1$.

La condition $y'(0) = 1$ conduit à l'équation : $-c_1 + c_2 - \frac{1}{4} = 1$.

Le système d'équations précédent admet pour solutions $c_1 = -\frac{1}{4}$ et $c_2 = 1$.

La solution particulière de (E) qui vérifie les conditions $y(0) = 1$ et $y'(0) = 1$ est

$$y = -\frac{1}{4}e^{-x} + \left(\frac{1}{2}x^2 - \frac{1}{2}x + \frac{5}{4}\right)e^x.$$